








CONCURSUL ȘCOLAR NAȚIONAL DE COMPETENȚĂ ȘI PERFORMANȚĂ COMPER  
EDIȚIA 2014-2015 / ETAPA NAȚIONALĂ, IUNIE 2015  
COMPER – MATEMATICĂ, CLASA I

- Toate subiectele sunt obligatorii.
- Timpul efectiv de lucru este de 120 de minute.
- Cerințele vor fi citite de învățător.

Citește cu atenție enunțurile, apoi bifează răspunsul corect:


**STANDARD**

1. Sunt vecinul mare al numărului 89. Cine sunt eu?  
a. 90;      b. 88;      c. 97;      d. 99.
2. Găsește numărul care completează șirul:  
                    
a. 80;      b. 79;      c. 90;      d. 68.
3.  Mă numesc Corina. Am 20 de  și 15 . Câte legume am?  
a. 53;      b. 5;      c. 71;      d. 35.
4. Bunicul are 63 de ani. Peste 10 ani va avea:  
a. 46 de ani;      b. 73 de ani;      c. 64 de ani;      d. 70 de ani.
5. Mă gândesc la un număr. Scad din el 12 și obțin 39. La ce număr m-am gândit?  
a. 27;      b. 41;      c. 51;      d. 68.
6. Suma numerelor pare mai mici decât 10 este:  
a. 20;      b. 30;      c. 35;      d. 25.
7. Miruna îmi spune să fac un buchetel din cel mult 25 de ghiocei. Cel mai mare număr de ghiocei pe care-l poate avea buchetul este:  
a. 5;      b. 24;      c. 25;      d. 26.

8. Un an are:

- a. 4 luni;      b. 3 luni;      c. 10 luni;      d. 12 luni.

9. Dacă numeri toate laturile formelor de mai jos vei obține:



- a. 42 de laturi;      b. 24 de laturi;  
c. 22 de laturi;      d. 19 laturi.

10. Ancuța are 2 perechi de mănuși mov și o pereche de culoare verde. Câte mănuși are Ancuța în total?

- a. 12;      b. 4;      c. 7;      d. 6.



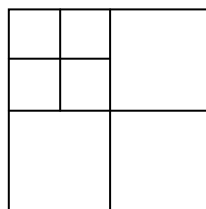
11. Pentru ca egalitatea  $50 \bigcirc 40 \bigcirc 10 \bigcirc 5 = 95$  să fie adevărată, în ceruțele

trebuie să punem, în ordine, semnele:

- a. +, -, +;      b. -, -, +;      c. -, +, +;      d. +, +, -.

12. În figura alăturată sunt ... pătrate.

- a. 7;  
b. 8;  
c. 9;  
d. 10.



13. Am 3 găini, fiecare cu câte 10 puișori. Câți puișori au toate găinile?

- a. 20;      b. 30;      c. 13;      d. 31.



14. În căsuța din pădure locuiesc Albă-ca-Zăpada și cei 7 pitici. Toți se uită la pădurarul care se apropie. Spre pădurar sunt îndreptați:

- a. 10 ochi;      b. 8 ochi;      c. 16 ochi;      d. 14 ochi.

15. Câte numere sunt mai mari decât 89 și cel mult egale cu 95?

- a. patru;      b. cinci;      c. șase;      d. șapte.

16. Dacă însumezi o săptămână și 12 zile vei obține:

- a. 19 zile;      b. 16 zile;      c. 31 de zile;      d. 28 de zile.

**EXCELENȚĂ**

- 17.** Deschid o carte la mijloc. Pe pagina din stânga citesc numărul 24. Câte pagini are cartea?  
a. 24;                      b. 25;                      c. 42;                      d. 48.
- 18.** Mihai are 32 ani și este cu 17 ani mai mic decât Sorin. Peste 5 ani, băieții vor avea împreună:  
a. 59 de ani;      b. 81 de ani;      c. 76 de ani;      d. 91 de ani.

**RĂSPUNSURI CORECTE:**

Item	1	2	3	4	5	6	7	8	9	10	11	12	13	14	15	16	17	18
Răspuns	a	b	d	b	c	a	c	d	c	d	d	c	b	c	c	a	d	d